

Adı :
Soyadı:

3. Sınıf
Matematik

Doğal Sayılar
Örüntüler-3

Verilen örüntüde kuralı bozan sayıyı bulunuz.

12	15	18	20	24	27
28	33	37	43	48	53
99	95	93	90	87	84
14	21	28	35	41	49
56	48	42	36	30	24
95	93	91	89	87	86

10	14	17	22	26	30
40	35	32	28	24	20
27	36	45	54	62	71
28	38	47	58	68	78
70	64	56	48	40	32
39	43	47	51	56	59


Boş kareye kaç tane nokta konulmalıdır?

...	...
	...

...	...
	...

...	...
...	

İlk ve son vagondaki yolcu sayısını bulup yazalım.



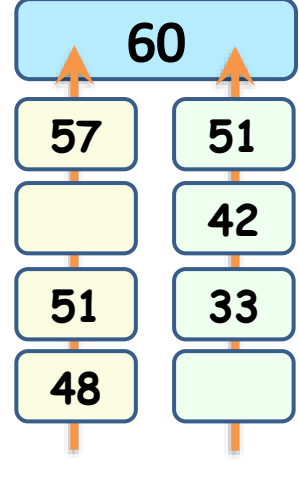
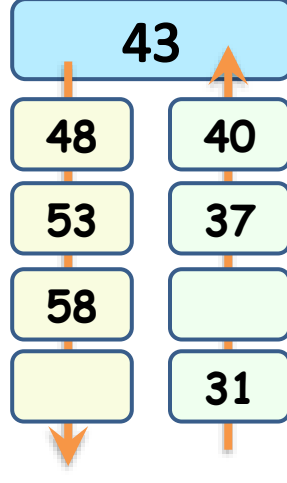
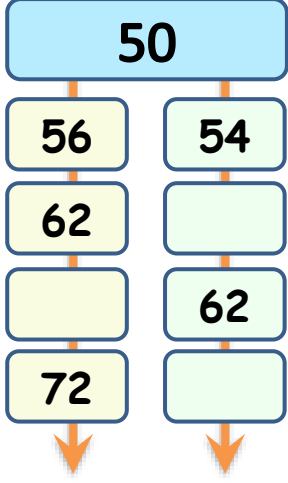
Adı :

Soyadı:

3. Sınıf
Matematik

Doğal Sayılar
Örüntüler-3

Verilen sayıya göre örüntüyü tamamlayınız.



Verilen nesne sayılarına göre örüntüyü tamamlayınız.

